





MASSE	Séquence 3	Séance 2
CP	TRACE ÉCRITE AVEC CONCLUSION	

	<p>Combien de cubes pèsent les bouteilles ?</p> <p>Chaque groupe d'élèves a une bouteille de même masse.</p>
	<div>  </div>
	<p>La bouteille C pèse .....</p> <p>La bouteille D pèse .....</p>
	<p>Selon les étalons choisis, le nombre varie.</p> <p>Plus l'étalon choisi est lourd, moins il en faut pour peser l'objet.</p> <p>Plus l'étalon choisi est léger, plus il en faut pour peser l'objet.</p>